



CÂMARA DE VEREADORES  
DO MUNICÍPIO DE PARAÍSO  
CONCURSO PÚBLICO Nº01/2017



**CARGO: AUXILIAR DE SERVIÇOS GERAIS**

CANDIDATO (A): \_\_\_\_\_

**FICA TERMINANTEMENTE PROIBIDO AOS CANDIDATOS:**

- ✓ Comunicar-se com outros candidatos.
- ✓ Fazer qualquer tipo de consulta ou uso de equipamentos eletrônicos.
- ✓ Sair com material referente à prova.
- ✓ Ausentar-se do local da prova sem o acompanhamento de um fiscal.

**ORIENTAÇÕES IMPORTANTES**

01 - Este caderno contém questões do tipo múltipla escolha.

02 - Verifique se o caderno contém falhas: folhas em branco, má impressão, páginas trocadas, numeração errada, etc. Encontrando falhas, levante a mão. O Fiscal o atenderá e trocará o seu caderno.

03 - Cada questão do tipo MÚLTIPLA ESCOLHA tem 4 (quatro) alternativas (A - B - C - D). Apenas 01 (uma) resposta é correta. Não marque mais de uma resposta para a mesma questão, nem deixe nenhuma delas sem resposta. Se isso acontecer, a questão será anulada.

04 - Para marcar as respostas definitivas no seu CARTÃO RESPOSTA do tipo MÚLTIPLA ESCOLHA, use caneta esferográfica com tinta preta. NÃO utilize caneta com tinta vermelha ou lápis.

05 - Ao receber o CARTÃO RESPOSTA preencha-o corretamente.

06 - Tenha cuidado na marcação da Folha de Respostas, pois ela não será substituída em hipótese alguma.

07 - Confira e assine a Folha de Respostas, antes de entregá-la ao Fiscal. NA FALTA DA ASSINATURA, A SUA PROVA SERÁ ANULADA.

08 - 30 minutos após o início das provas, você poderá retirar-se da sala SEM LEVAR ESTE CADERNO.

09 - Em nenhuma hipótese, o candidato poderá levar o Caderno de Provas e/ou o Cartão de Resposta.

10 - No encerramento das provas, há necessidade de pelo menos três candidatos presentes na sala. Isso faz parte das normas para transparência na fiscalização do Concurso Público.

11. A duração da prova será de Três Horas.

Anote aqui seu Gabarito.

1.	2.	3.	4.	5.	6.	7.	8.	9.	10.
11.	12.	13.	14.	15.	16.	17.	18.	19.	20.
21.	22.	23.	24.	25.	26.	27.	28.	29.	30.





Oscar foi pescar. Jogou o anzol com a isca e puxou.  
Oscar levou um susto daqueles!  
Ele fisgou uma máscara de carnaval.  
A máscara estava toda suja e estragada!  
Oscar pôs a máscara num latão de lixo, perto do poste, e disse:  
— Esta ninguém pesca mais!

*Graça Boquet*

Conforme o texto exposto:

**1. Diante do enunciado do texto, analise as sentenças e assinale a alternativa que descreve como estava a máscara que Oscar fisgou:**

- a) Estava amassada como um papel.
- b) Estava deplorável, mas reutilizável.
- c) Estava toda imunda e estragada.
- d) Estava toda molhada e estragada.

**2. De acordo com o texto, Oscar depois de fisgar a máscara a pôs:**

- a) Em um saco de lixo pois podia ser reciclada.
- b) Em um latão longe do poste.
- c) Em um balde perto do poste.
- d) Em um latão de lixo perto do poste.

**3. A separação silábica está correta em:**

- a) an-zol, Os-car, car-na-val.
- b) na-zol, Os-car, ca-r-na-val.
- c) Os-ca-r, car-na-val, an-zol.
- d) Car-na-val, Os-ca-r, na-zol.

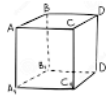
**4. Assinale a alternativa que condiz com o plural da palavra latão.**

- a) lataozão
- b) latões
- c) latãos
- d) latão

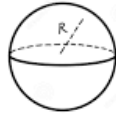
**5. Assinale alternativa que descreve o coletivo da palavra peixe:**

- a) cardume
- b) manada
- c) enxame
- d) constelação

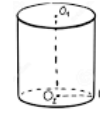
**6. Analise as seguintes figuras e assinale qual delas apresenta a forma de um cubo.**



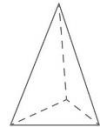
a)



b)



c)



d)

**7. Oscar pescou 10kg de peixe na segunda feira e pescou a metade dessa quantia na terça feira. Quantos quilos de peixe Oscar pescou nestes dois dias.**

- a) 5,50kg
- b) 5kg
- c) 15kg
- d) 10kg

**8. Se com um anzol Oscar consegue pescar 35 peixes em duas horas, quantos peixes Oscar conseguiria pescar no mesmo tempo se usar 5 anzóis.**

- a) 70
- b) 175
- c) 155
- d) 35

**9. Numa competição esportiva, se inscreveram 40 meninos e 36 meninas. Para forma as equipes com o mesmo número de atletas, o treinador disse que os meninos e as meninas deveriam ser divididos igualmente entre as equipes. O número de equipes deve ser a maior possível.**

Em relação ao enunciado todas as alternativas abaixo estão corretas, exceto uma, qual é?

- a) Podem ser formadas quatro equipes;
- b) Cada equipe terá 10 meninos;
- c) Cada equipe terá 09 meninas;
- d) Podem ser formadas no máximo três equipes.

**10. Três carros de corrida vão treinar numa pista circular: o carro azul leva 02 minutos para percorrer toda pista. O carro vermelho leva 03 minutos para percorrer toda pista. O Carro vermelho leva 05 minutos para percorrer toda pista.**

Eles dão a largada juntos. Depois de quantos minutos eles passarão juntos novamente pelo ponto de largada?

- a) 10 minutos;
- b) 20 minutos;
- c) 30 minutos;
- d) 40 minutos.

**11. O capitalismo é um sistema político econômico que orienta a organização de uma sociedade e seu espaço. Podemos afirmar que o capitalismo:**

- a) surgiu durante a revolução industrial;

- b) surgiu a partir de uma divisão de pessoas;
- c) surgiu depois da segunda guerra mundial.
- d) surgiu depois da primeira guerra mundial.

**12. De acordo com o site oficial do município, a partir do início da década de 90, Paraíso ficou conhecida como:**

- a) capital da amizade;
- b) capital da integração;
- c) capital da economia;
- d) capital da cordialidade.

**13. Qual das alternativas corresponde a capital de Santa Catarina:**

- a) Balneário Camboriú;
- b) Blumenau;
- c) Florianópolis;
- d) Itajaí

**14. Santa Catarina é uma das 27 unidades federativas do Brasil, assinale a alternativa que corresponde a região na qual Santa Catarina está localizada:**

- a) No centro da região sul do país;
- b) No oeste da região sul do país;
- c) No sul da região sul do país;
- d) No leste da região sul do país.

**15. O estado de Santa Catarina, assim como uma república, é coordenado por três poderes.**

Assinale a alternativa que indica quais são eles:

- a) executivo, justiça federal, tribunal de contas;
- b) executivo, legislativo e judiciário;
- c) prefeito, vereadores e governador;
- d) executivo, governador e judiciário.

**16. É certo que uma das tarefas que incumbe ao Auxiliar de Serviços Gerais é zelar pela limpeza e organização das repartições públicas. Quanto ao tema, é correto afirmar que o procedimento mais adequado para o desempenho dessa atividade é:**

- a) Adentrar em qualquer ambiente, independente de autorização, mesmo que durante uma reunião, desde que esteja no fim de seu expediente;
- b) Pedir licença antes de entrar e proceder a limpeza dos ambientes sem atrapalhar o desempenho das atividades dos demais servidores da repartição pública;
- c) Enquanto realiza seu trabalho, intrometer-se nas reuniões, dando sua opinião a respeito do assunto discutido pelas autoridades públicas;
- d) Desempenhar as atividades cotidianas sem a devida cautela, não importando-se com a conservação do patrimônio público.

**17. No que concerne à segurança do trabalhador, indique qual das alternativas abaixo não indica corretamente tipos de Equipamentos de Proteção Individual – EPI’S:**

- a) Máscara e protetor auricular;
- b) Extintor de incêndio e protetor solar;
- c) Óculos de proteção e capacete;
- d) Botina de segurança e luva.

**18. A coleta seletiva e a reciclagem de lixo têm um papel muito importante para a preservação do meio ambiente. São benefícios trazidos pela coleta seletiva, exceto:**

- a) Diminuição da exploração de recursos naturais;
- b) Perda de tempo das pessoas, pois é mais rápido depositar todo o lixo no mesmo recipiente;
- c) Diminuição da poluição do solo, da água e do ar;
- d) Redução do desperdício.

**19. No que se refere à higiene pessoal, quais hábitos devem fazer parte do nosso cotidiano? Analise as afirmativas abaixo e assinale a alternativa correta:**

- I - Tomar banho diariamente;
- II - Cuidar da higiene bucal;
- III - Lavar bem as mãos.
- IV - Usar sempre roupas novas.

Estão Corretas:

- a) Apenas a afirmativa I e IV;
- b) Apenas as afirmativas II, e IV;
- c) Apenas as afirmativas I, II e III;
- d) Todas as afirmativas estão corretas.

**20. São atitudes condizentes com o ambiente de trabalho, exceto:**

- a) Acessar redes sociais para fins pessoais durante o expediente;
- b) Tratar os colegas de trabalho com respeito e urbanidade;
- c) Manter organização no desempenho de suas funções;
- d) Ser pontual e ter assiduidade.

**21. Ao higienizar locais altos ou de difícil acesso deve-se tomar cuidado a fim de garantir a segurança e evitar acidentes. Analise as afirmativas abaixo e assinale a que indica o modo mais adequado para realizar a referida atividade:**

- a) Equilibrar-se sobre móveis empilhados;
- b) Pular para alcançar o local desejado;
- c) Subir sobre balcão ou mesa;
- d) Usar escada com altura adequada ao local a ser alcançado.

**22. São exemplos de lixo orgânico, exceto:**

- a) Restos de alimentos;
- b) Sementes;
- c) Sacos plásticos;
- d) Borra de café.

**23. Como é sabido, o sabão em pó (detergente em pó) é um produto de limpeza utilizado por grande parte da população para várias atividades. Ao armazenar o referido produto, é correto afirmar que o auxiliar de serviços gerais deve:**

- a) Guardar o sabão em pó juntamente com alimentos a serem consumidos pelos servidores;
- b) Deixar o sabão em pó exposto a intempéries, e ao alcance de crianças;
- c) Guardar o sabão em pó em local adequado, destinado ao armazenamento de materiais de limpeza;
- d) Misturar todos os produtos de limpeza no mesmo recipiente, a fim de otimizar a utilização do espaço.

**24. Para realização da coleta seletiva podem ser utilizadas lixeiras de cores diferentes para cada tipo de objeto (lixo). Sabendo que cada cor corresponde a um tipo de material a ser reciclado, julgue as proposições abaixo e assinale a incorreta:**

- a) A lixeira de cor **Verde** deve ser utilizada para vidro;
- b) A lixeira de cor **Vermelha** deve ser utilizada para plástico;
- c) A lixeira de cor **Azul** deve ser utilizada para papel/papelão;

d) A lixeira de cor **Preta** deve ser utilizada para resíduos perigosos.

**25. Quanto a limpeza dos sanitários é fundamental, exceto:**

- a) Limpar diariamente.
- b) Todo dia e conforme a necessidade.
- c) Lavar com sabão e retirar o lixo apenas quando a equipe de recolhimento passar.
- d) Retirar o lixo amarrado para colocar em lugar próprio.

**26. Quanto ao controle dos produtos é incorreto afirmar:**

- a) Os gêneros recém-chegados devem ser guardados através daqueles já estocados.
- b) Os gêneros recém-chegados devem ser consumidos primeiramente.
- c) A disposição deve obedecer a data de fabricação.
- d) As de produção mais antiga são dispostas na frente.

**27. Ao prestar os primeiros socorros a uma pessoa que sofreu acidente deve-se observar os seguintes princípios básicos exceto:**

- a) Manter a calma e a tranquilidade facilita o raciocínio.
- b) Avaliar a cena antes de se aproximar da vítima.
- c) Solicitar ajuda imediatamente.
- d) Abordar a vítima somente se a mesma estiver insegura.

**28. Qual desses telefones é acionado para solicitar atendimento do corpo de bombeiros na central de emergência:**

- a) 192
- b) 190
- c) 194
- d) 157

**29. Quando falamos em lixo, qual o significado das 3R's?**

- a) Reorganizar, reutilizar e reciclar.
- b) Reciclar, reutilizar e remanejar.
- c) Reciclar, reduzir e reutilizar.
- d) Reduzir, remanejar e reorganizar.

**30. Analise as sentenças e a alternativa que cuja definição são condutas fulcrais na sociedade humana e estão relacionadas com as atitudes dos indivíduos e a forma como eles interagem.**

- a) Ética e cidadania.
- b) Pluralidade e obediência.
- c) Profissionalismo e nudência.
- d) Valores e pontualidade.