



**ESTADO DE SANTA CATARINA**  
**MUNICÍPIO DE SANTA TEREZINHA DO PROGRESSO**  
**EMPREGO PÚBLICO / CONCURSO PÚBLICO**  
**PROVA OBJETIVA**



**CARGO: OPERADOR DE MÁQUINA**

**CANDIDATO (A):** \_\_\_\_\_

**FICA TERMINANTEMENTE PROIBIDO AOS CANDIDATOS:**

- ✓ Comunicar-se com outros candidatos.
- ✓ Fazer qualquer tipo de consulta ou uso de equipamentos eletrônicos.
- ✓ Sair com material referente à prova.
- ✓ Ausentar-se do local da prova sem o acompanhamento de um fiscal.

**ORIENTAÇÕES IMPORTANTES**

- 01 - Este caderno contém questões do tipo múltipla escolha.
- 02 - Verifique se o caderno contém falhas: folhas em branco, má impressão, páginas trocadas, numeração errada, etc. Encontrando falhas, levante a mão. O Fiscal o atenderá e trocará o seu caderno.
- 03 - Cada questão do tipo MÚLTIPLA ESCOLHA tem 4 (quatro) alternativas (A - B - C - D). Apenas 01 (uma) resposta é correta. Não marque mais de uma resposta para a mesma questão, nem deixe nenhuma delas sem resposta. Se isso acontecer, a questão será anulada.
- 04 - Para marcar as respostas definitivas no seu CARTÃO RESPOSTA do tipo MÚLTIPLA ESCOLHA, use caneta esferográfica com tinta preta. NÃO utilize caneta com tinta vermelha ou lápis.
- 05 - Ao receber o CARTÃO RESPOSTA preencha-o corretamente.
- 06 - Tenha cuidado na marcação da Folha de Respostas, pois ela não será substituída em hipótese alguma.
- 07 - Confira e assine a Folha de Respostas, antes de entregá-la ao Fiscal. NA FALTA DA ASSINATURA, A SUA PROVA SERÁ ANULADA.
- 08 - 40 minutos após o início das provas, você poderá retirar-se da sala SEM LEVAR ESTE CADERNO.
- 09 - Em nenhuma hipótese, o candidato poderá levar o Caderno de Provas e/ou o Cartão de Resposta.
- 10 - No encerramento das provas, há necessidade de pelo menos três candidatos presentes na sala. Isso faz parte das normas para transparência na fiscalização do Concurso.
11. A duração da prova será de Quatro Horas.

Anote aqui suas respostas.

1	2	3	4	5	6	7	8	9	10
11	12	13	14	15	16	17	18	19	20
21	22	23	24	25	26	27	28	29	30



**01. Não são antônimos:**

- a) Fino – Grosso.
- b) Honrar – Desonrar.
- c) Vestir – Despir.
- d) Aldeia – Povoado.

**02. “Viajar é bom e instrutivo.”**

Os monossílabos presentes na frase acima são:

- a) Tônico e átono, respectivamente.
- b) Átono e tônico, respectivamente.
- c) Ambos átonos.
- d) Ambos tônicos.

**03. Assinale a alternativa que apresenta palavra ortograficamente incorreta:**

- a) Proprietário.
- b) Admitir.
- c) Pertubar.
- d) Ritmado.

**04. Leia com atenção:**

I- Monossílabo átono é pronunciado fortemente;

II- Monossílabo tônico é pronunciado fracamente.

Sobre os itens acima:

- a) Apenas I está correto.
- b) Apenas II está correto.
- c) Ambos estão incorretos.
- d) Ambos estão corretos.

**05. Leia com atenção:**

I- A viagem foi agradável;

II- Espero que eles viagem pelo mundo.

Sobre os itens acima:

- a) Ambos estão incorretos.
- b) Ambos estão corretos.
- c) Apenas I está correto.
- d) Apenas II está correto.

**06. Em qual das alternativas a frase está corretamente escrita?**

- a) O cabeilereiro é ájil e sinjelo.
- b) O cabeleireiro é ágil e singelo.
- c) O cabeleirero é ágil e singelo.
- d) O cabeleirero é agel e singelo.

**07. Qual das frases abaixo é interrogativa?**

- a) Ela foi tarde.
- b) Ela foi tarde?
- c) Ela foi tarde!
- d) Ela foi tarde...

**08. É uma palavra polissílaba:**

- a) Vinha.
- b) Galinha.
- c) Indicador.
- d) Dedo.

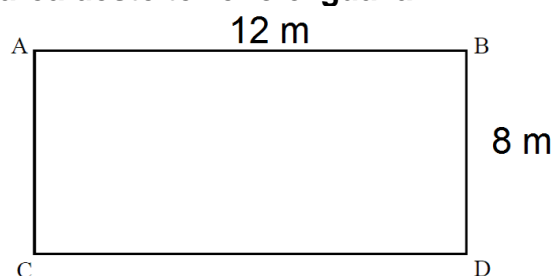
**09. É uma palavra paroxítona:**

- a) Direção.
- b) Imaginou.
- c) Dançar.
- d) Vamos.

**10. Qual das palavras abaixo tem o mesmo número de consoantes e vogais?**

- a) Balduíno.
- b) Beijo.
- c) Culpa.
- d) Avião.

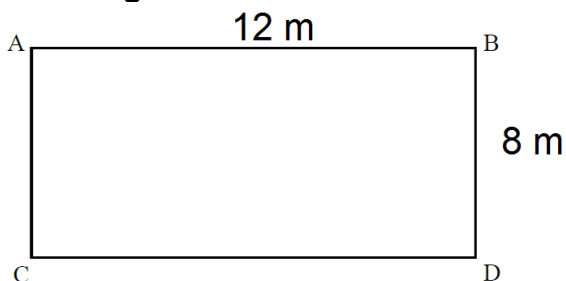
**11. Analise o desenho de um terreno abaixo. Com base nas medidas apresentadas, é correto afirmar que a área deste terreno é igual a:**



- a) 96 m<sup>2</sup>
- b) 84 m<sup>2</sup>

- c)  $76 \text{ m}^2$
- d)  $62 \text{ m}^2$

12. Ainda com base no terreno apresentando anteriormente, é correto afirmar que a soma de todos os seus lados é igual a:



- a) 60 m
- b) 50 m
- c) 40 m
- d) 30 m

13. Para o Natal, João comprou cinco caixas de bombom. Sabendo que cada caixa custa R\$ 12,50, é correto afirmar que ao todo João gastou:

- a) R\$ 67,50
- b) R\$ 66,99
- c) R\$ 66,00
- d) R\$ 62,50

14. Uma professora entregou aos seus alunos a figura geométrica planificada abaixo para que eles a montassem. Com base nisso, é correto afirmar que, após a montagem, a figura se transformará em um:

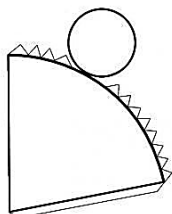


Figura Geométrica Planificada

- a) Cilindro
- b) Cone
- c) Cubo
- d) Prisma

15. Analisando a tabela abaixo, pode-se concluir que 8 dividido por 2 traz como

quociente o número 4, bem como o resto da divisão igual a zero.

Dividendo	Divisor	Quociente	Resto
8	2	4	0
12	6	?	?

Com base nisso, é correto afirmar que o quociente e o resto da divisão de  $12/6$  são, respectivamente:

- a) 2 e 0
- b) 3 e 0
- c) 6 e 3
- d) 4 e 0

16. Segundo o Código de Trânsito Brasileiro, são competências do CONTRAN, exceto:

- a) Responder às consultas que lhe forem formuladas, relativas à aplicação da legislação de trânsito.
- b) Julgar os recursos interpostos pelos infratores.
- c) Normatizar os procedimentos sobre a aprendizagem, habilitação, expedição de documentos de condutores, e registro e licenciamento de veículos.
- d) Estabelecer as diretrizes do regimento das JARI.


17. A placa de sinalização de trânsito abaixo indica:



- a) Projeção de cascalhos.
- b) Pista escorregadia.

- c) Área com desmoronamento.
- d) Pista irregular.

18. A placa de sinalização de trânsito abaixo indica:



- a) Saliência ou lombada.
- b) Alfândega.
- c) Uso obrigatório de correntes.
- d) Circulação exclusiva de bicicletas.

19. Segundo o Código de Trânsito Brasileiro, é considerado infração gravíssima:

- a) Usar o veículo para arremessar, sobre os pedestres ou veículos, água ou detritos.
- b) Deixar o condutor ou passageiro de usar o cinto de segurança.
- c) Dirigir sem atenção ou sem os cuidados indispensáveis à segurança.
- d) Dirigir ameaçando os pedestres que estejam atravessando a via pública, ou os demais veículos.

20. Segundo o Código de Trânsito Brasileiro, deixar o condutor envolvido em acidente com vítima de prestar ou providenciar socorro à vítima, podendo fazê-lo é considerado:

- a) Infração leve.
- b) Infração média.
- c) Infração grave.
- d) Infração gravíssima.

21. Leia a afirmativa abaixo e depois responda o que se pede.

*É um compressor hidráulico acionado através de uma polia ligada ao motor por uma correia.*

Esta afirmação refere-se:

- a) A Bomba Hidráulica.
- b) Ao Setor de Direção.
- c) Ao Motor do veículo
- d) Ao Sistema de Freio

22. A placa de sinalização de trânsito abaixo indica:



- a) Sentido único.
- b) Mão dupla adiante.
- c) Sentido duplo.
- d) Cruzamento de Vias.

23. Segundo o Código de Trânsito Brasileiro, forçar passagem entre veículos que, transitando em sentidos opostos, estejam na iminência de passar um pelo outro ao realizar operação de ultrapassagem é considerado:

- a) Infração leve.
- b) Infração média.
- c) Infração grave.
- d) Infração gravíssima.

24. Transitar com o veículo em calçadas, passeios, passarelas, ciclovias, ciclo faixas, ilhas, refúgios, ajardinamentos, canteiros centrais e divisores de pista de rolamento, acostamentos, marcas de canalização, gramados e jardins públicos é considerado infração gravíssima, e tem como penalidade:

- a) Suspensão do direito de dirigir.
- b) Frequência obrigatória em curso de reciclagem.
- c) Apenas multa.
- d) Advertência por escrito.

**25. Tem por função registrar o número de horas de trabalho executados com o trator enquanto ligado:**

- a) Paquímetro.
- b) Manômetro.
- c) Tacômetro.
- d) Horímetro.

**26. Responda V (verdadeiro) e F (falso) e depois assinale a sequência correta, em relação ao combustível utilizado no motor a diesel:**

- ( ) Óleo Diesel;
- ( ) Gasolina;
- ( ) Biodiesel;
- ( ) Álcool;
- ( ) Querosene.

**A sequência correta é?**

- a) V, F, V, F, F
- b) V, F, V, V, F
- c) V, F, V, F, V
- d) F, F, V, V, V

**27. Qual das alternativas abaixo é falsa em relação às válvulas de um motor?**

- a) Uma entrada de fluido sob pressão vindo da bomba.
- b) Uma saída de fluido para o reservatório, permitindo o fluxo de fluido constante no circuito hidráulico,
- c) Uma saída da câmara de pressão esquerda.
- d) Um mecanismo eletrônico de comunicação em caso de avarias.

**28. Qual das alternativas abaixo não é uma função do óleo lubrificante.**

a) Diminuir o atrito com conseqüente aumento do desgaste das partes em contato;

b) Atuar como agente de limpeza, retirando os carvões e partículas de metais que se formam durante o funcionamento do motor;

c) Realizar um resfriamento auxiliar do motor;

d) Impedir a passagem dos gases da câmara de combustão para o cárter, completando a vedação entre os anéis do pistão e a parede do cilindro

**29. Analise o trecho e assinale a alternativa que completa corretamente a lacuna:**

*Uma máquina pesada muito utilizada nas obras de construção civil, a \_\_\_\_\_, é um dos equipamentos pesados que se consolidou no mercado como essencial para obras de terraplenagem. Construída a partir de um chassis articulado, com seis rodas, lâmina no vão central e ripper traseiro, também conhecido como escarificador.*

- a) Manivela.
- b) Escavadeiras.
- c) Retroescavadeira
- d) Motoniveladora.

**30. Qual das alternativas abaixo, não é uma máquina aplicadora de defensivos.**

- a) Pulverizador
- b) Polvilhadora.
- c) Semeadora
- d) Atomizadoras