



**ESTADO DE SANTA CATARINA**  
**MUNICÍPIO DE SANTA TEREZINHA DO PROGRESSO**  
**EMPREGO PÚBLICO / CONCURSO PÚBLICO**  
**PROVA OBJETIVA**



**CARGO: MOTORISTA**

**CANDIDATO (A):** \_\_\_\_\_

**FICA TERMINANTEMENTE PROIBIDO AOS CANDIDATOS:**

- ✓ Comunicar-se com outros candidatos.
- ✓ Fazer qualquer tipo de consulta ou uso de equipamentos eletrônicos.
- ✓ Sair com material referente à prova.
- ✓ Ausentar-se do local da prova sem o acompanhamento de um fiscal.

**ORIENTAÇÕES IMPORTANTES**

- 01 - Este caderno contém questões do tipo múltipla escolha.
- 02 - Verifique se o caderno contém falhas: folhas em branco, má impressão, páginas trocadas, numeração errada, etc. Encontrando falhas, levante a mão. O Fiscal o atenderá e trocará o seu caderno.
- 03 - Cada questão do tipo MÚLTIPLA ESCOLHA tem 4 (quatro) alternativas (A - B - C - D). Apenas 01 (uma) resposta é correta. Não marque mais de uma resposta para a mesma questão, nem deixe nenhuma delas sem resposta. Se isso acontecer, a questão será anulada.
- 04 - Para marcar as respostas definitivas no seu CARTÃO RESPOSTA do tipo MÚLTIPLA ESCOLHA, use caneta esferográfica com tinta preta. NÃO utilize caneta com tinta vermelha ou lápis.
- 05 - Ao receber o CARTÃO RESPOSTA preencha-o corretamente.
- 06 - Tenha cuidado na marcação da Folha de Respostas, pois ela não será substituída em hipótese alguma.
- 07 - Confira e assine a Folha de Respostas, antes de entregá-la ao Fiscal. NA FALTA DA ASSINATURA, A SUA PROVA SERÁ ANULADA.
- 08 - 40 minutos após o início das provas, você poderá retirar-se da sala SEM LEVAR ESTE CADERNO.
- 09 - Em nenhuma hipótese, o candidato poderá levar o Caderno de Provas e/ou o Cartão de Resposta.
- 10 - No encerramento das provas, há necessidade de pelo menos três candidatos presentes na sala. Isso faz parte das normas para transparência na fiscalização do Concurso.
11. A duração da prova será de Quatro Horas.

Anote aqui suas respostas.

1	2	3	4	5	6	7	8	9	10
11	12	13	14	15	16	17	18	19	20
21	22	23	24	25	26	27	28	29	30



**01. Não são antônimos:**

- a) Fino – Grosso.
- b) Honrar – Desonrar.
- c) Vestir – Despir.
- d) Aldeia – Povoado.

**02. “Viajar é bom e instrutivo.”**

Os monossílabos presentes na frase acima são:

- a) Tônico e átono, respectivamente.
- b) Átono e tônico, respectivamente.
- c) Ambos átonos.
- d) Ambos tônicos.

**03. Assinale a alternativa que apresenta palavra ortograficamente incorreta:**

- a) Proprietário.
- b) Admitir.
- c) Pertubar.
- d) Ritmado.

**04. Leia com atenção:**

I- Monossílabo átono é pronunciado fortemente;

II- Monossílabo tônico é pronunciado fracamente.

Sobre os itens acima:

- a) Apenas I está correto.
- b) Apenas II está correto.
- c) Ambos estão incorretos.
- d) Ambos estão corretos.

**05. Leia com atenção:**

I- A viagem foi agradável;

II- Espero que eles viagem pelo mundo.

Sobre os itens acima:

- a) Ambos estão incorretos.
- b) Ambos estão corretos.
- c) Apenas I está correto.
- d) Apenas II está correto.

**06. Em qual das alternativas a frase está corretamente escrita?**

- a) O cabeilereiro é ájil e sinjelo.
- b) O cabeleireiro é ágil e singelo.
- c) O cabeleirero é ágil e singelo.
- d) O cabeleirero é agel e singelo.

**07. Qual das frases abaixo é interrogativa?**

- a) Ela foi tarde.
- b) Ela foi tarde?
- c) Ela foi tarde!
- d) Ela foi tarde...

**08. É uma palavra polissílaba:**

- a) Vinha.
- b) Galinha.
- c) Indicador.
- d) Dedo.

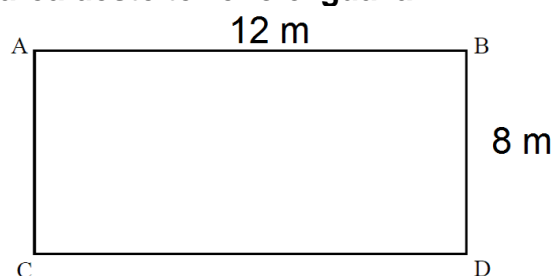
**09. É uma palavra paroxítona:**

- a) Direção.
- b) Imaginou.
- c) Dançar.
- d) Vamos.

**10. Qual das palavras abaixo tem o mesmo número de consoantes e vogais?**

- a) Balduíno.
- b) Beijo.
- c) Culpa.
- d) Avião.

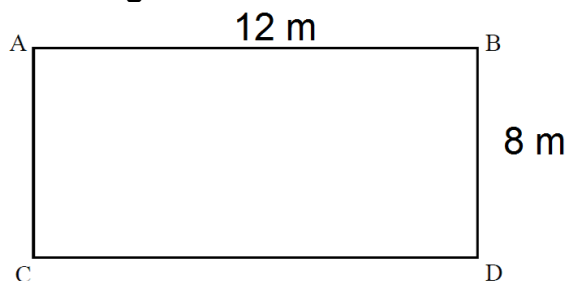
**11. Analise o desenho de um terreno abaixo. Com base nas medidas apresentadas, é correto afirmar que a área deste terreno é igual a:**



- a) 96 m<sup>2</sup>
- b) 84 m<sup>2</sup>

- c) 76 m<sup>2</sup>
- d) 62 m<sup>2</sup>

12. Ainda com base no terreno apresentando anteriormente, é correto afirmar que a soma de todos os seus lados é igual a:



- a) 60 m
- b) 50 m
- c) 40 m
- d) 30 m

13. Para o Natal, João comprou cinco caixas de bombom. Sabendo que cada caixa custa R\$ 12,50, é correto afirmar que ao todo João gastou:

- a) R\$ 67,50
- b) R\$ 66,99
- c) R\$ 66,00
- d) R\$ 62,50

14. Uma professora entregou aos seus alunos a figura geométrica planificada abaixo para que eles a montassem. Com base nisso, é correto afirmar que, após a montagem, a figura se transformará em um:

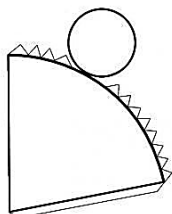


Figura Geométrica Planificada

- a) Cilindro
- b) Cone
- c) Cubo
- d) Prisma

15. Analisando a tabela abaixo, pode-se concluir que 8 dividido por 2 traz como

quociente o número 4, bem como o resto da divisão igual a zero.

Dividendo	Divisor	Quociente	Resto
8	2	4	0
12	6	?	?

Com base nisso, é correto afirmar que o quociente e o resto da divisão de 12/6 são, respectivamente:

- a) 2 e 0
- b) 3 e 0
- c) 6 e 3
- d) 4 e 0

16. Responda (V) verdadeiro ou (F) falso, segundo o Código de Trânsito Brasileiro, compete ao CONTRAN:

- () Estimular e orientar a execução de campanhas educativas de trânsito;
- () Responder a consultas relativas à aplicação da legislação e dos procedimentos normativos de trânsito;
- () Criar Câmaras Temáticas.

- a) F-V-V.
- b) F-V-F.
- c) V-F-V.
- d) F-F-V.

17. Analise os itens a seguir, segundo o Código de Trânsito Brasileiro:

I- Antes de colocar o veículo em circulação nas vias públicas, o condutor deverá verificar a existência e as boas condições de funcionamento dos equipamentos de uso obrigatório, bem como assegurar-se da existência de combustível suficiente para chegar ao local de destino;

II- O trânsito de veículos sobre passeios, calçadas e nos acostamentos,

só poderá ocorrer para que se adentre ou se saia dos imóveis ou áreas especiais de estacionamento;

III- O condutor que for ingressar numa via, procedente de um lote lindeiro a essa via, deverá dar preferência aos veículos e pedestres que por ela estejam transitando.

Dos itens acima:

- a) Apenas os itens I e III estão corretos.
- b) Apenas os itens II e III estão corretos.
- c) Apenas os itens I e II estão corretos.
- d) Todos os itens estão corretos.

**18. A placa de sinalização de trânsito abaixo indica:**



- a) Proibido virar à esquerda.
- b) Proibido retornar à esquerda.
- c) Proibido mudar de faixa ou pista de trânsito da direita para esquerda.
- d) Siga em frente ou à direita.

**19. Segundo o Código de Trânsito Brasileiro, os candidatos poderão habilitar-se nas categorias de A a E. O condutor de veículo motorizado de duas ou três rodas, com ou sem carro lateral, deve-se habilitar-se na:**

- a) Categoria A.
- b) Categoria B.
- c) Categoria C.
- d) Categoria D.

**20. A placa de sinalização de trânsito abaixo indica:**



- a) Comprimento limitado.
- b) Peso bruto total limitado.
- c) Peso limitado por eixo.
- d) Peso bruto total ilimitado.

**21. Disputar corrida é considerado infração:**

- a) Leve.
- b) Média.
- c) Grave.
- d) Gravíssima.

**22. Segundo o Código de Trânsito Brasileiro, deixar de dar passagem pela esquerda, quando solicitado é considerado:**

- a) Infração leve.
- b) Infração média.
- c) Infração grave.
- d) Infração gravíssima.

**23. A placa de sinalização de trânsito abaixo indica:**



- a) Passagem sinalizada de pedestres.
- b) Passagem sinalizada de escolares.
- c) Trânsito compartilhado por ciclistas e pedestres.
- d) Proibido trânsito de pedestres.

**24. Dirigir ameaçando os pedestres que estejam atravessando a via pública, ou os demais veículos é considerado infração gravíssima, e tem como medida administrativa:**

- a) Frequência obrigatória em curso de reciclagem e multa.
- b) Apreensão do veículo e frequência obrigatória em curso de reciclagem.
- c) Cassação da permissão para dirigir e multa.
- d) Retenção do veículo e recolhimento do documento de habilitação.

**25. Segundo o Código de Trânsito Brasileiro, é considerado infração grave:**

- a) Dirigir sob a influência de álcool ou de qualquer outra substância psicoativa que determine dependência.
- b) Deixar o condutor ou passageiro de usar o cinto de segurança.
- c) Confiar ou entregar a direção de veículo a pessoa que, mesmo habilitada, por seu estado físico ou psíquico, não estiver em condições de dirigi-lo com segurança.
- d) Dirigir sem atenção ou sem os cuidados indispensáveis à segurança.

**26. Deixar o condutor, envolvido em acidente sem vítima, de adotar providências para remover o veículo do local, quando necessária tal medida para assegurar a segurança e a fluidez do trânsito é considerado infração média e tem como penalidade:**

- a) Suspensão do direito de dirigir.
- b) Frequência obrigatória em curso de reciclagem.
- c) Apenas multa.
- d) Advertência por escrito.

**27. A placa de sinalização de trânsito abaixo indica:**



- a) Confluência à esquerda.
- b) Entroncamento oblíquo à esquerda.
- c) Junções sucessivas contrárias primeira à esquerda.
- d) Via lateral à esquerda.

**28. Responda (V) verdadeiro ou (F) falso. Segundo o Código de Trânsito Brasileiro, o condutor de veículo destinado à condução de escolares deve satisfazer os seguintes requisitos:**

*( ) Ter idade superior a vinte e um anos;*

*( ) Ser habilitado na categoria A;*

*( ) Não ter cometido nenhuma infração grave ou gravíssima, ou ser reincidente em infrações médias durante os doze últimos meses.*

- a) F-V-V.
- b) V-V-V.
- c) V-F-V.
- d) F-F-V.

**29. São consideradas infrações médias, exceto:**

- a) Ter seu veículo imobilizado na via por falta de combustível.
- b) Estacionar o veículo nas esquinas e a menos de cinco metros do bordo do alinhamento da via transversal.
- c) Seguir veículo em serviço de urgência, estando este com prioridade de passagem devidamente identificada por dispositivos regulamentares de alarme sonoro e iluminação vermelha intermitentes.

- d) Parar o veículo afastado da guia da calçada (meio-fio) a mais de um metro.

**30. Responda (V) verdadeiro ou (F) falso. Em caso de acidente de trânsito:**

*(\_\_)* Não tire o capacete de um motociclista;

*(\_\_)* Faça torniquetes e dê líquidos;

*(\_\_)* Mantenha, dentro do possível, as vias livres para o tráfego fluir.

- a) F-V-V.
- b) V-V-V.
- c) V-F-V.
- d) F-F-V.